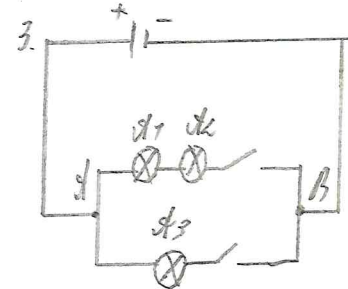
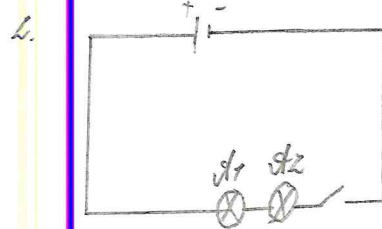
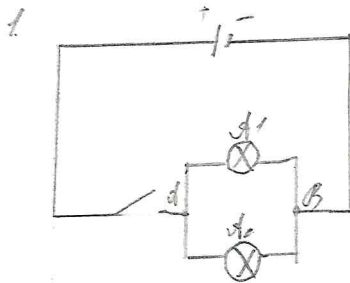


Изобразите электрическую схему параллельного, последовательного, смешанного соединения цепи, состоящей из лампочек, выключателя, гальванического элемента, проводников.



итого 30

Юрдж